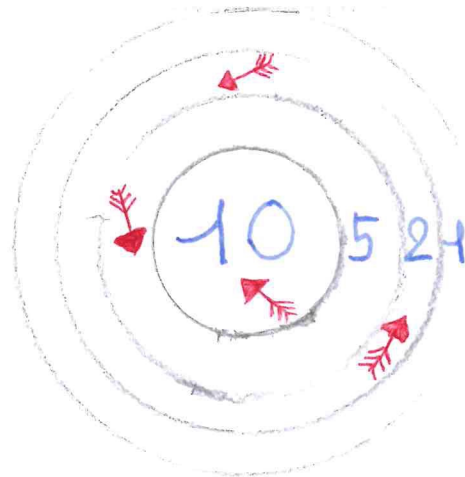


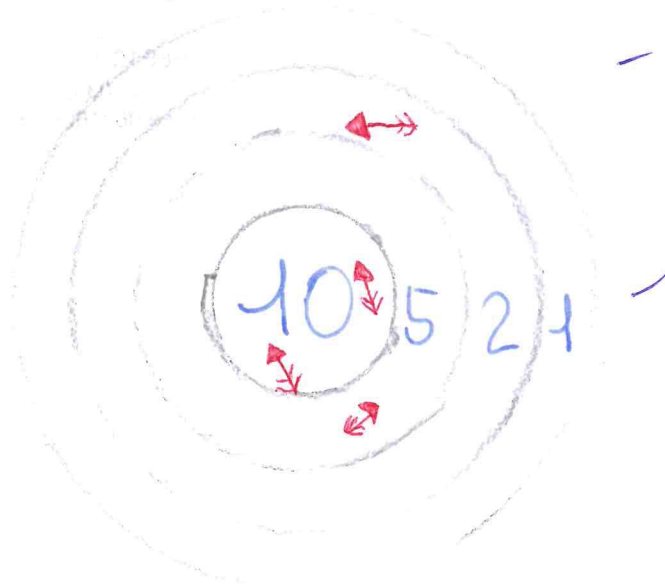
Robin des bois

[CE2]

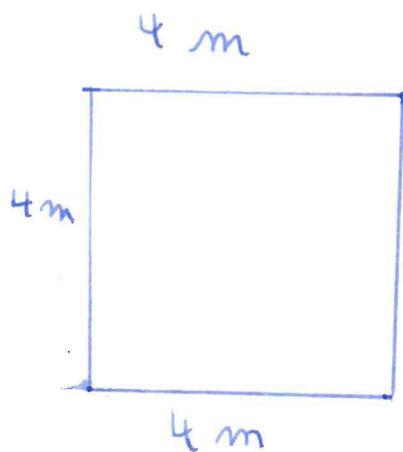
Peu tout début, on a fait les points de charc.



Après on a fait les points de l'opie.



On a essayé pleins d'autres calculs.



des jardins

pour trouver
ce calcul on
a fait
(6+6+4=16)

4 m

Nous avons trouvé
que le triangle fait 16 m

→

Nous avons essayé de
trouver le résultat de
16 du coup nous avons
trouvé $4+4+4+4=16$.

Le jardin de monsieur
Martin fait 4 m de chaque
côté.

Problème

Kévin a un lapin, Jérôme a un chat et Pierre a un chien, parce que si Pierre et Kévin n'ont pas de chat et que Kévin n'a pas de chien non plus il a un lapin. Du coup il n'y a plus que Jérôme et Pierre.

Jérôme son animal n'a pas du coup il a un chat et Pierre un chien.

Réponse